

PROVES D'ACCÉS A LA UNIVERSITAT

PRUEBAS DE ACCESO A LA UNIVERSIDAD

CONVOCATÒRIA: JUNY 2019	CONVOCATORIA: <i>JUNIO 2019</i>
Assignatura: GEOGRAFIA	Asignatura: <i>GEOGRAFÍA</i>

BAREM DE L'EXAMEN:

Pregunta 1a-2,5 punts; pregunta 2a-2,5 punts; pregunta 3a-2,5 punts; pregunta 4a-2,5 punts

BAREMO DEL EXAMEN:

Pregunta 1ª-2,5 puntos; pregunta 2ª-2,5 puntos; pregunta 3ª-2,5 puntos; pregunta 4ª-2,5 puntos

EJERCICIO 1

1. Con los datos del Documento 1, realiza una gráfica de la evolución de la población mayor de 65 años, diferenciando hombres y mujeres, y explica sus resultados (2,5 puntos).
2. Basándote en el mapa del Documento 2, describe las diferencias territoriales en los niveles de envejecimiento y explica las causas de esas diferencias (2,5 puntos).
3. Indica los factores demográficos básicos que influyen en el envejecimiento español (2,5 puntos).
4. Explica las consecuencias sociales, económicas, demográficas y territoriales que puede implicar en un futuro la actual tendencia al envejecimiento (2,5 puntos).

EXERCICI 1

1. Amb les dades del Document 1, feu una gràfica de l'evolució de la població major de 65 anys, tot diferenciant homes i dones, i explica'n els resultats (2,5 punts).
2. A partir del mapa del Document 2, descriuiu les diferències territorials en els nivells d'envelliment i expliqueu les causes d'aquestes diferències (2,5 punts).
3. Indiqueu els factors demogràfics bàsics que influeixen en l'envelliment espanyol (2,5 punts).
4. Expliqueu les conseqüències socials, econòmiques, demogràfiques i territorials que pot implicar en un futur l'actual tendència a l'envelliment.

DOCUMENT 1 / DOCUMENTO 1

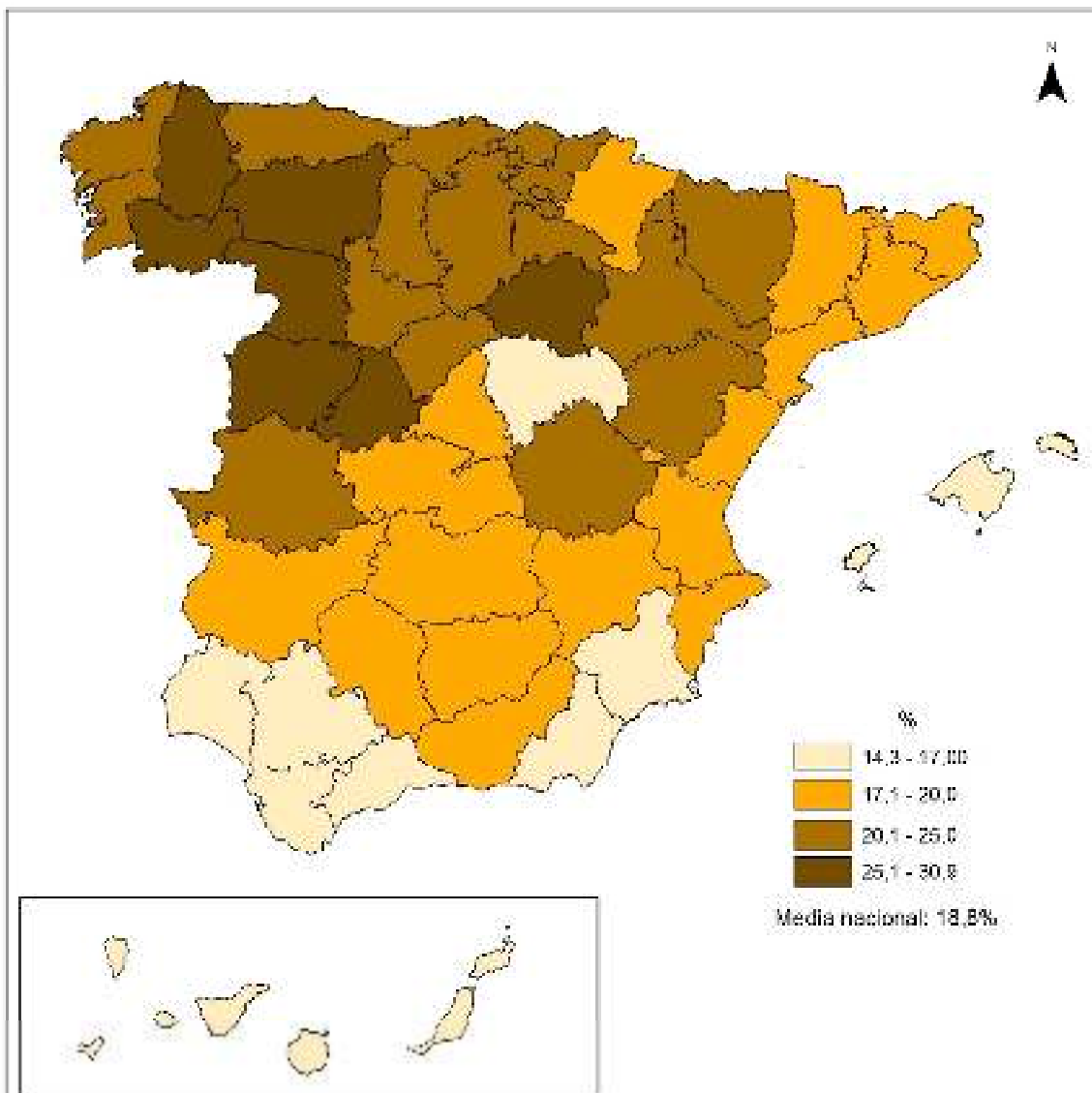
Espanya, 2001-2017: Evolució del percentatge de persones majors de 65 anys respecte de la població total
España, 2001-2017: Evolución del porcentaje de personas mayores de 65 años respecto a la población total

Año	Ambos sexes %	Entre los varones %	Entre las mujeres %
2001	17,1	14,7	19,5
2009	16,6	14,3	19,0
2013	17,7	15,4	19,9
2017	18,8	16,5	21,0

Font: Elaborat amb dades de l'INE (padrons de població)
Fuente: Elaborado con datos del INE (Padrones de Población)

DOCUMENT 2 / DOCUMENTO 2

Espanya, 2017: Percentatge de majors de 65 anys a les distintes províncies
España, 2017: Porcentaje de mayores de 65 años en las distintas provincias



Font: Elaborat amb dades del Padró d'habitants de 2017 (INE).
Fuente: elaborado con datos del Padrón de Habitantes de 2017 (INE).

PROVES D'ACCÉS A LA UNIVERSITAT

PRUEBAS DE ACCESO A LA UNIVERSIDAD

CONVOCATÒRIA: JUNY 2019	CONVOCATORIA: JUNIO 2019
Assignatura: GEOGRAFIA	Asignatura: GEOGRAFÍA

BAREM DE L'EXAMEN:

Pregunta 1a-2,5 punts; pregunta 2a-2,5 punts; pregunta 3a-2,5 punts; pregunta 4a-2,5 punts

BAREMO DEL EXAMEN:

Pregunta 1^a-2,5 punts; pregunta 2^a-2,5 punts; pregunta 3^a-2,5 punts; pregunta 4^a-2,5 punts

EJERCICIO 2

1. A partir de los datos del Documento 1, represente en una gráfica la evolución del porcentaje de explotaciones ganaderas según régimen extensivo o intensivo de 2003 a 2016 (2,5 puntos).
2. A partir de los datos del Documento 1 y tus conocimientos sobre la estructura ganadera, explica a qué se debe la evolución que registran las distintas tipologías de explotaciones ganaderas de 2003 a 2016 (2,5 puntos).
3. Enuncia y explica los principales problemas económicos que experimenta en la actualidad el espacio agrario y el mundo rural (2,5 puntos).
4. ¿Qué objetivos generales plantea la PAC (2013) para hacer frente a los problemas del espacio agrario y el mundo rural? (2,5 puntos).

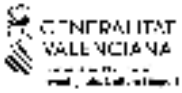
EXERCICI 2

1. A partir de les dades del Document 1, representeu en una gràfica l'evolució del percentatge d'explotacions ramaderes, segons règim extensiu o intensiu, de 2003 a 2016 (2,5 punts).
2. A partir de les dades del Document 1 i dels vostres coneixements sobre l'estructura ramadera, expliqueu a què és deguda l'evolució que registren les diferents tipologies d'explotacions ramaderes de 2003 a 2016 (2,5 punts).
3. Enuncieu i expliqueu els principals problemes econòmics que experimenta en l'actualitat l'espai agrari i el món rural (2,5 punts).
4. Quins objectius generals planteja la PAC (2013) per fer front als problemes de l'espai agrari i el món rural? (2,5 punts).

DOCUMENT 1 / DOCUMENTO 1**Evolució del percentatge d'explotacions ramaderes segons règim extensiu o intensiu de 2003 a 2016**
Evolución del porcentaje de explotaciones ganaderas según régimen extensivo o intensivo de 2003 a 2016

	Extensiu	Intensiu	Total	% Extensiu	% Intensiu
2003	867.176	53.036	920.212	94,2	5,8
2005	811.841	68.242	880.083	92,2	7,8
2007	772.554	68.291	840.845	91,9	8,1
2013	355.999	92.159	448.158	79,4	20,6
2016	314.912	96.787	411.699	76,5	23,5

Font: Enquesta sobre l'estructura de les explotacions agràries. Diversos anys. Institut Nacional d'Estadística. Espècies consultades: bovins, ovins, caprins, porcins, aus (excepte austruços), pollastres de carn, gallines ponedores, conilles mares, abelles i altres animals
(https://www.ine.es/dyngs/INEbase/es/operacion.htm?c=Estadistica_C&cid=1254736176854&menu=resultados&idp=1254735727106).



COMISSIÓ GESTORA DE LES PROVES D'ACCÉS A LA UNIVERSITAT
COMISIÓN GESTORA DE LAS PRUEBAS DE ACCESO A LA UNIVERSIDAD




PROVES D'ACCÉS A LA UNIVERSITAT

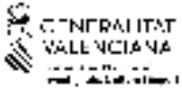
PRUEBAS DE ACCESO A LA UNIVERSIDAD

CONVOCATÒRIA: JUNY 2019	CONVOCATORIA: JUNIO 2019
Assignatura: GEOGRAFIA	Asignatura: GEOGRAFÍA

Etiqueta de l'estudiant / Etiqueta del estudiante

DOCUMENT ANNEX EXERCICI 1 / DOCUMENTO ANEXO EJERCICIO 1





PROVES D'ACCÉS A LA UNIVERSITAT

PRUEBAS DE ACCESO A LA UNIVERSIDAD

CONVOCATÒRIA: **JUNY 2019**

CONVOCATORIA: **JUNIO 2019**

Assignatura: **GEOGRAFIA**

Asignatura: *GEOGRAFÍA*

Etiqueta de l'estudiant / Etiqueta del estudiante

DOCUMENT ANNEX EXERCICI 2 / DOCUMENTO ANEXO EJERCICIO 2

