

PROVES D'ACCÉS A LA UNIVERSITAT

PRUEBAS DE ACCESO A LA UNIVERSIDAD

| | |
|---------------------------|--------------------------|
| CONVOCATÒRIA: JULIOL 2017 | CONVOCATORIA: JULIO 2017 |
| Assignatura: GEOGRAFIA | Asignatura: GEOGRAFÍA |

BAREM DE L'EXAMEN:

Pregunta 1^a-2,5 punts; pregunta 2^a-2,5 punts; pregunta 3^a-2,5 punts; pregunta 4^a-2,5 punts

BAREMO DEL EXAMEN:

Pregunta 1^a-2,5 puntos; 2^a pregunta 2,5 puntos; pregunta 3^a-2,5 puntos; pregunta 4^a-2,5 puntos

EXERCICI 1

1. Completeu els tres diagrames de Gausson que estan a mig preparar en el document annex basant-vos en les dades que apareixen en el document 1. Definiu la durada del període sec estival en cadascuna de les tres estacions.
2. En el mapa del document 2 apareixen cinc localitzacions. Identifiqueu a quins llocs corresponen les tres estacions representades pels diagrames de Gausson de la pregunta 1 i expliqueu el perquè.
3. Expliqueu com afecta la distribució del relleu peninsular al clima de les cinc localitzacions que apareixen en el mapa del document 2.
4. Expliqueu els principals riscos climàtics que poden afectar la façana mediterrània peninsular.

EJERCICIO 1

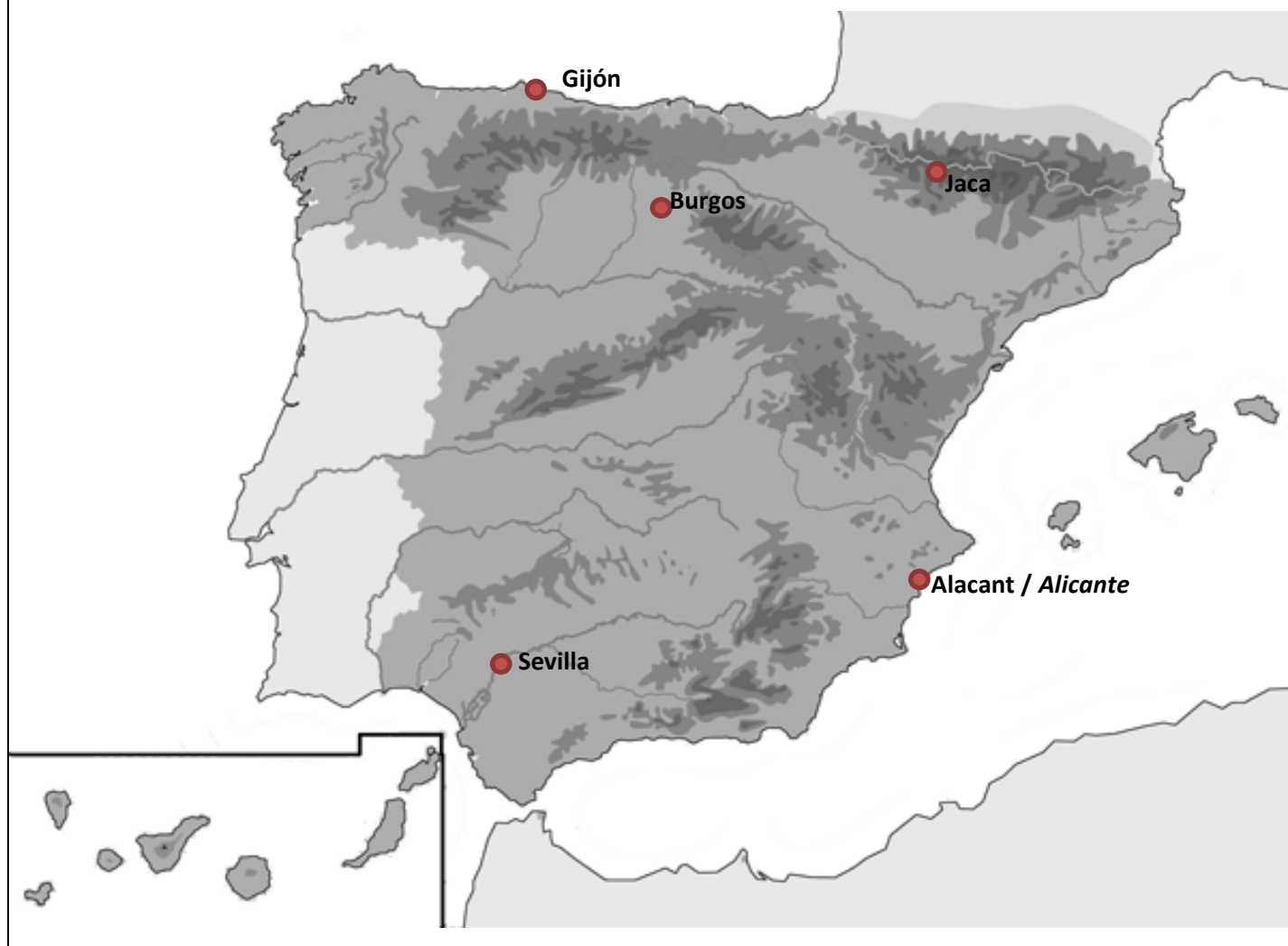
1. Complete los tres diagramas de Gausson que están a medio preparar en el documento anexo basándote en los datos que aparecen en el documento 1. Defina la duración del periodo seco estival en cada una de las tres estaciones.
2. En el mapa del documento 2 aparecen 5 localizaciones. Identifique a qué lugares corresponden las tres estaciones representadas por los diagramas de Gausson de la pregunta 1 y explique el porqué.
3. Explique cómo afecta la distribución del relieve peninsular al clima de las cinco localizaciones que aparecen en el mapa del documento 2.
4. Explique los principales riesgos climáticos que pueden afectar a la fachada mediterránea peninsular.

DOCUMENT 1 / DOCUMENTO 1

| | PUNTO 1 | | PUNTO 2 | | PUNTO 3 | |
|------------|-------------|---------------|--------------|--------------|-------------|--------------|
| | Temp. (°C) | Precip.. (mm) | Temp. (°C) | Precip. (mm) | Temp. (°C) | Precip. (mm) |
| Ene | 10,9 | 66 | 2,7 | 46 | 11,5 | 24 |
| Feb | 12,5 | 50 | 4,1 | 42 | 12,4 | 26 |
| Mar | 15,6 | 36 | 6,3 | 31 | 13,7 | 25,5 |
| Abr | 17,3 | 54 | 7,8 | 65 | 15,5 | 29 |
| May | 20,7 | 30 | 11,4 | 69 | 18,4 | 33 |
| Jun | 25,1 | 10 | 15,2 | 46 | 22,2 | 17 |
| Jul | 28,2 | 2 | 18,7 | 30 | 24,9 | 6 |
| Ago | 27,9 | 5 | 18,9 | 27 | 25,5 | 8 |
| Sep | 25 | 27 | 15,7 | 36 | 23,1 | 47 |
| Oct | 20,2 | 68 | 10,9 | 50 | 19,1 | 52 |
| Nov | 15,1 | 91 | 6,2 | 56 | 15,2 | 42 |
| Dic | 11,9 | 99 | 3,9 | 57 | 12,5 | 26 |
| Año | 19,2 | 539 | 10,15 | 555 | 17,8 | 335,5 |

Font/Fuente: AEMET (elaboració pròpia / elaboración propia)

DOCUMENT 2 / DOCUMENTO 2



PROVES D'ACCÉS A LA UNIVERSITAT

PRUEBAS DE ACCESO A LA UNIVERSIDAD

| | |
|---------------------------|--------------------------|
| CONVOCATÒRIA: JULIOL 2017 | CONVOCATORIA: JULIO 2017 |
| Assignatura: GEOGRAFIA | Asignatura: GEOGRAFÍA |

BAREM DE L'EXAMEN:

Pregunta 1^a-2,5 punts; pregunta 2^a-2 punts; pregunta 3^a-3 punts; pregunta 4^a-2,5 punts

BAREMO DEL EXAMEN:

Pregunta 1^a-2,5 puntos; pregunta 2^a-2 puntos; pregunta 3^a-3 puntos; pregunta 4^a-2,5 puntos

EXERCICI 2

1. Amb les dades del document 1, representeu el pes de la població urbana del 2011 a les comunitats autònomes espanyoles en el mapa annex.
2. A partir del mapa resultant de l'exercici anterior, identifiqueu correctament els contrastes territorials més acusats i descriviu les principals causes d'aquests.
3. El document 2 representa els principals espais amb i sense eixos urbans. Identifiqueu aquests, assenyalau les característiques generals i pròpies de cadascun dels eixos urbans espanyols, i enuncieu algunes de les seues principals ciutats.
4. El creixement de les ciutats espanyoles, i especialment les aglomeracions urbanes, presenten nombrosos problemes (econòmics, sociodemogràfics, ambientals, etc.). Indiqueu quins són aquests, les seues causes i com podrien solucionar-se.

EJERCICIO 2

1. Con los datos del documento 1 represente el peso de la población urbana de 2011 en las Comunidades Autónomas españolas en el mapa anexo.
2. A partir del mapa resultante del ejercicio anterior, identifique correctamente los contrastes territoriales más acusados y describa las principales causas de éstos.
3. El documento 2 representa los principales espacios con y sin ejes urbanos. Identifique éstos, señale las características generales y propias de cada uno de los ejes urbanos españoles, y enuncie algunas de sus principales ciudades.
4. El crecimiento de las ciudades españolas, y especialmente las aglomeraciones urbanas, presentan numerosos problemas (económicos, sociodemográficos, ambientales, etc.). Indique cuáles son éstos, sus causas y cómo podrían solucionarse.

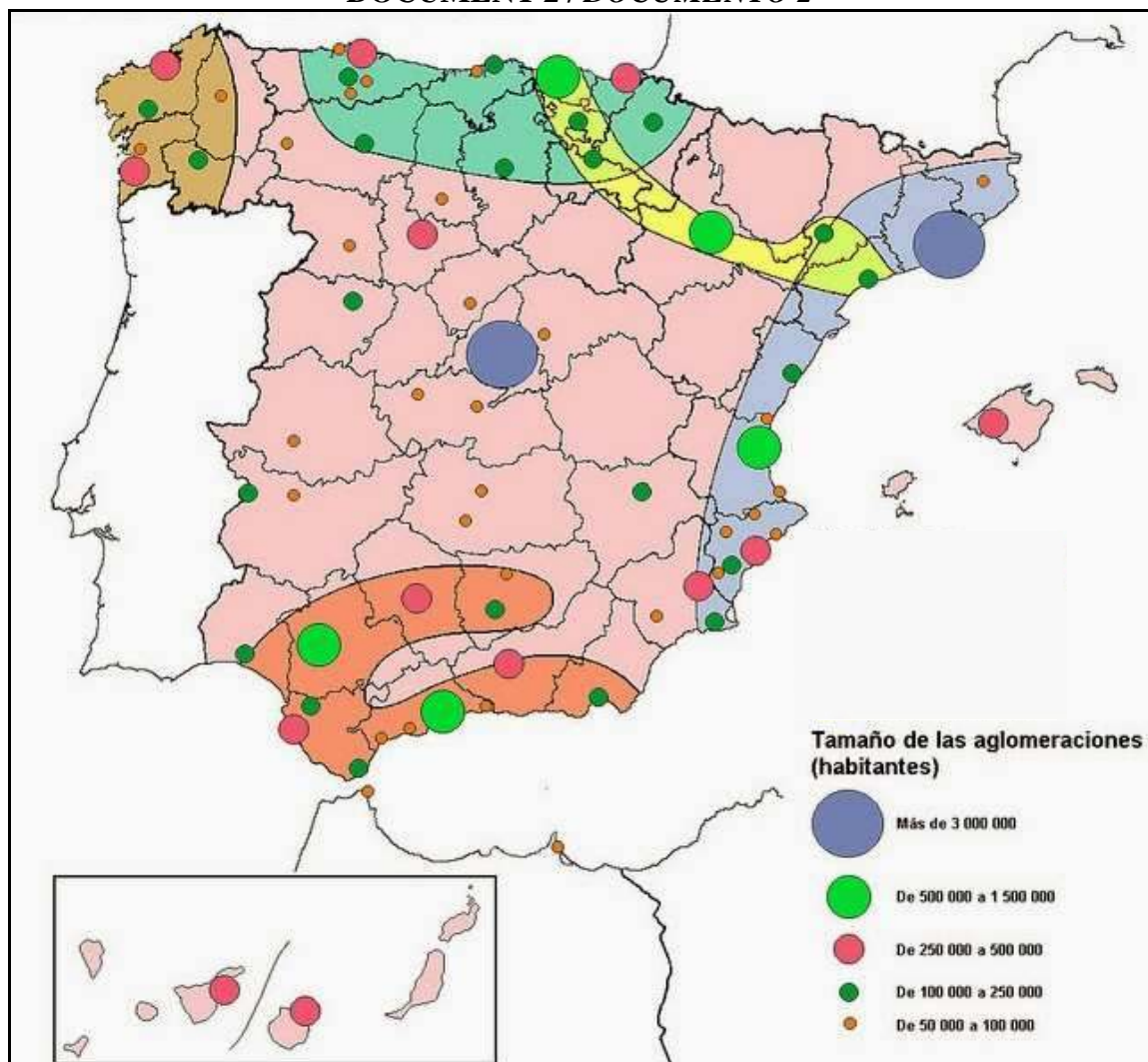
DOCUMENT 1 / DOCUMENTO 1

Porcentaje de población urbana por CC.AA. en 2011

| Comunidad Autónoma | Población urbana 2011 (residente en municipios >10.000 hab.) | Población total 2011 | % |
|------------------------------|--|----------------------|-------------|
| Andalucía | 6.728.738 | 8.424.102 | 79,9 |
| Aragón | 918.714 | 1.346.293 | 68,2 |
| Asturias (Principado de) | 936.780 | 1.081.487 | 86,6 |
| Baleares (Illes) | 939.336 | 1.113.114 | 84,4 |
| Canarias | 1.903.255 | 2.126.769 | 89,5 |
| Cantabria | 396.549 | 593.121 | 66,9 |
| Castilla y León | 1.434.318 | 2.558.463 | 56,1 |
| Castilla-La Mancha | 1.172.341 | 2.115.334 | 55,4 |
| Cataluña | 6.132.279 | 7.539.618 | 81,3 |
| Comunidad Valenciana | 4.233.056 | 5.117.190 | 82,7 |
| Extremadura | 541.626 | 1.109.367 | 48,8 |
| Galicia | 1.940.283 | 2.795.422 | 69,4 |
| Madrid (Comunidad de) | 6.113.527 | 6.489.680 | 94,2 |
| Murcia (Región de) | 1.413.374 | 1.470.069 | 96,1 |
| Navarra (Comunidad Foral de) | 350.105 | 642.051 | 54,5 |
| País Vasco | 1.768.577 | 2.184.606 | 81,0 |
| Rioja (La) | 203.713 | 322.955 | 63,1 |
| Ceuta | 82.376 | 82.376 | 100 |
| Melilla | 78.476 | 78.476 | 100 |
| TOTAL ESPAÑA: | 37.287.423 | 47.190.493 | 79,0 |

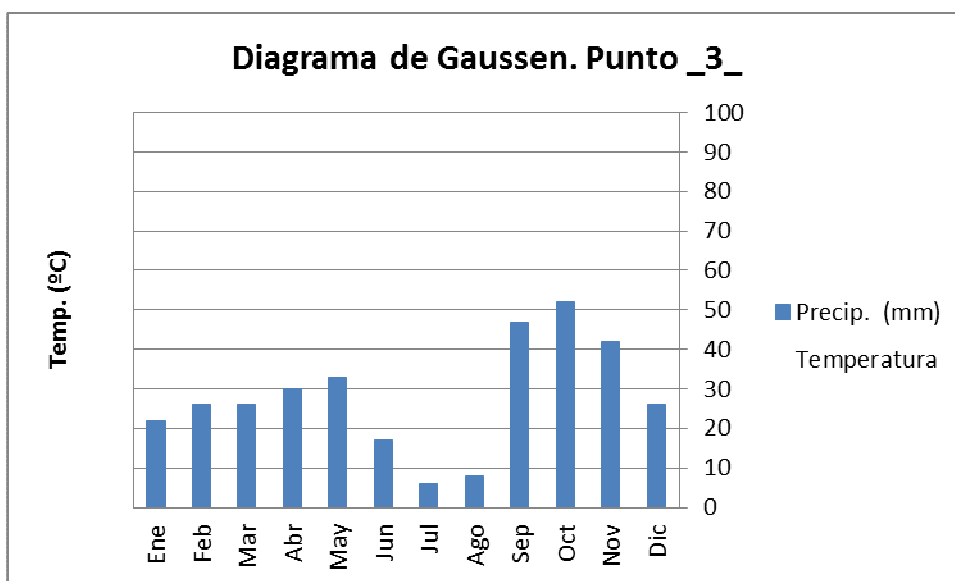
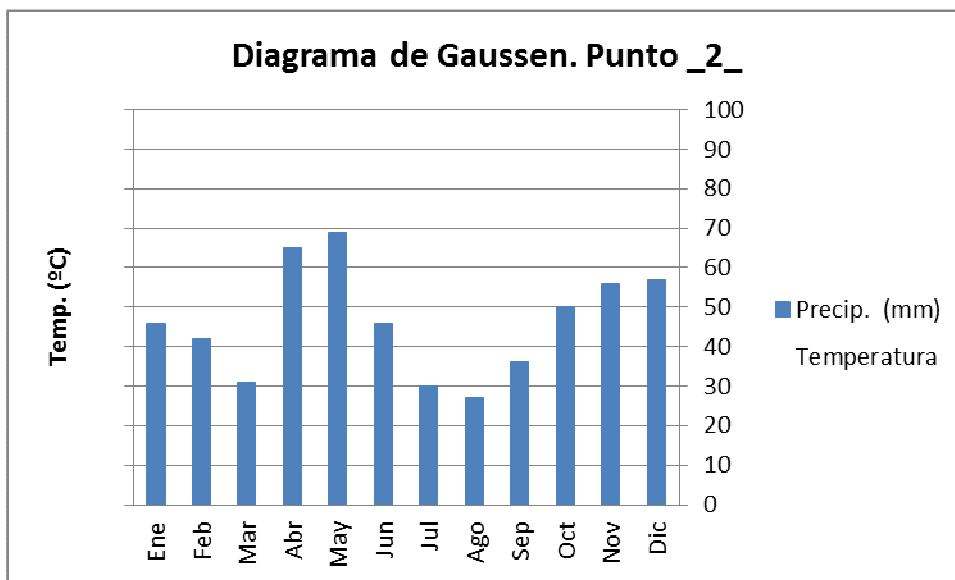
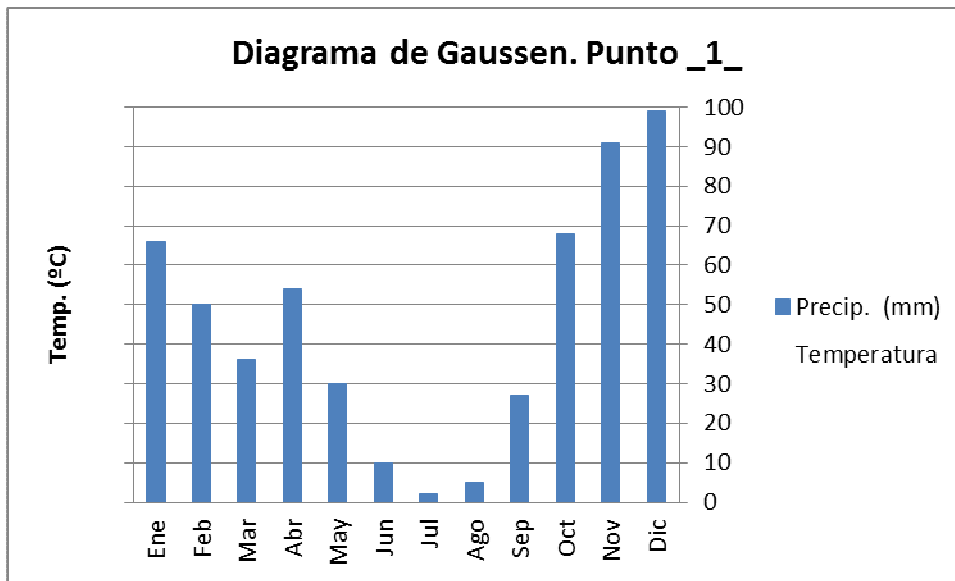
Font/Fuente: Censo de Población y Viviendas de 2011, Instituto Nacional de Estadística.

DOCUMENT 2 / DOCUMENTO 2



Font/Fuente: Adaptación Méndez, R. y Molinero, F. (1993).

DOCUMENT ANNEX/ DOCUMENTO ANEXO



PROVES D'ACCÉS A LA UNIVERSITAT

PRUEBAS DE ACCESO A LA UNIVERSIDAD

CONVOCATÒRIA: JULIOL 2017

CONVOCATORIA: JULIO 2017

Assignatura: GEOGRAFIA

Asignatura: GEOGRAFÍA

Etiqueta de l'estudiant / Etiqueta del estudiante

MAPA ANNEX/ MAPA ANEXO

