

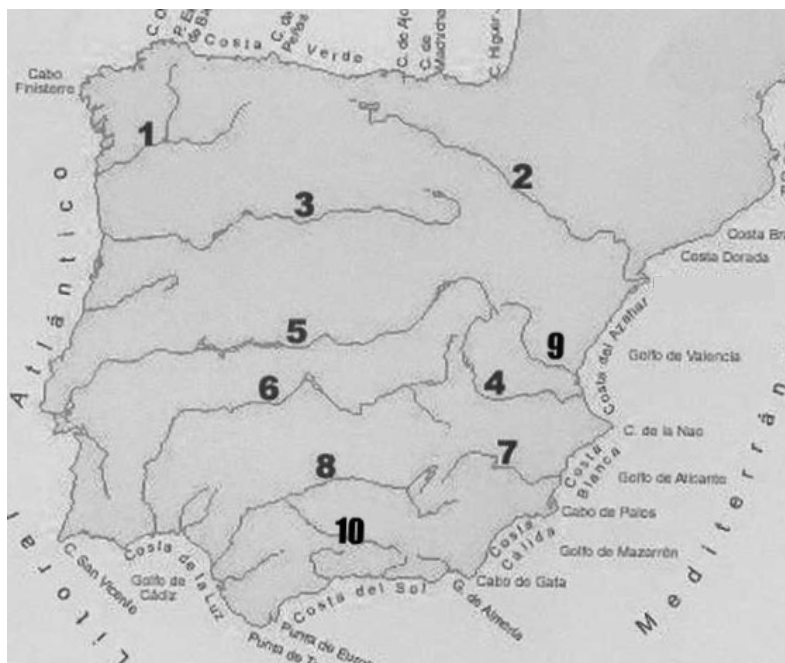
<b>PRUEBA ACCESO A CICLOS FORMATIVOS DE GRADO SUPERIOR</b>	Junio 2011 OPCIÓN A: GEOGRAFÍA
------------------------------------------------------------	-----------------------------------

DATOS DEL ASPIRANTE		CALIFICACIÓN PRUEBA
Apellidos:		Nombre:
D.N.I. o Pasaporte:	Fecha de nacimiento:        /        /	

**Instrucciones:**

- **Lee atentamente las preguntas antes de contestar.**
- **La puntuación máxima de cada pregunta está indicada en cada enunciado.**
- **Revisa cuidadosamente la prueba antes de entregarla.**

**1. Observa** el mapa físico de España y **responde** a las siguientes cuestiones: (2 puntos)



**A. Relaciona** los números con los nombres de los ríos correspondientes: (1 punto)

- 1.....
- 2.....
- 3.....
- 4.....
- 5.....
- 6.....
- 7.....
- 8.....
- 9.....
- 10.....

**B. ¿Qué** unidad de relieve se encuentra entre los ríos número 3 y 5? (0,5 puntos)

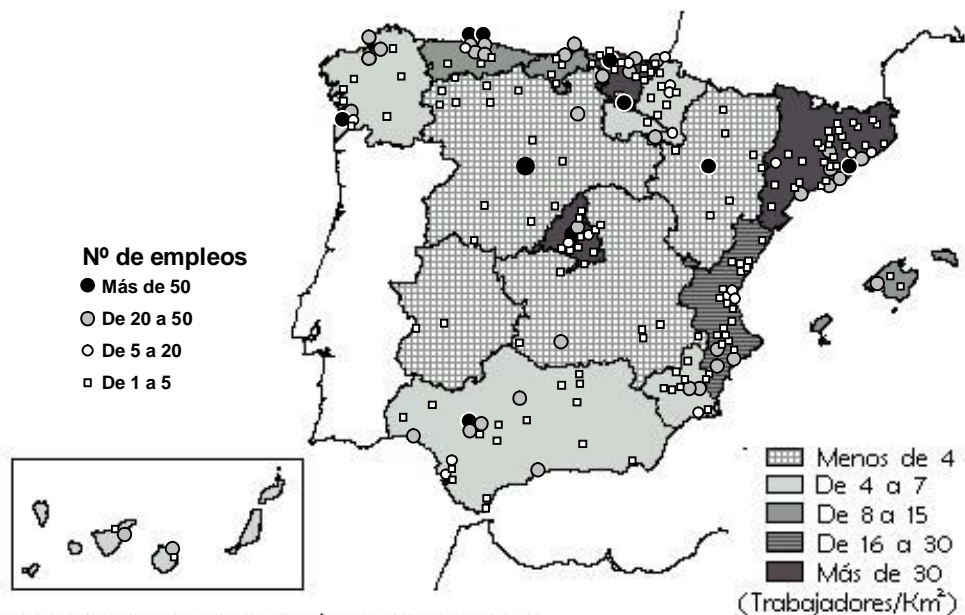
.....

**C. Clasifica** los ríos según la vertiente a la que pertenecen: (0,5 puntos)

Vertiente Atlántica	Vertiente mediterránea	Vertiente cantábrica



2. Analiza el siguiente mapa de España con las principales zonas industriales del país y responde a las preguntas: (2 puntos)



Fuente: R. Méndez. *Las Actividades Industriales* Ed. Síntesis

**A. Indica** el nombre de las cuatro Comunidades Autónomas con menor densidad de empleados industriales. (0'5 puntos)

.....

.....

**B. Señala** en qué zonas se concentra la industria en Andalucía. (0'5 puntos)

.....

.....

.....

**C. Explica** por qué motivos Cataluña, País Vasco y Madrid han sido tradicionalmente las zonas más industrializadas de España. (0'5 puntos)

.....

.....

.....

**D.** Los datos de este mapa son de 1975. Desde ese momento hasta ahora, la industria española ha sufrido importantes cambios. **Señala y explica** muy brevemente las principales transformaciones en este periodo. (0'5 puntos)


.....

.....

.....



**3. Observa** el siguiente plano urbano de Barcelona y **responde** a las preguntas: (2 puntos)



Elaboración propia a partir de una imagen de Google Earth

**A. Indica** el nombre que reciben las zonas de una ciudad que se corresponderían con las que aparecen señaladas con los números 1 y 2: (0,5 puntos)

Zona número 1: .....

Zona número 2: .....

**B. Señala** el tipo de plano urbano que se puede observar tanto en la zona número 1 como en la zona número 2: (0,5 puntos)

Zona número 1: .....

Zona número 2: .....

**C. Analiza** el contexto histórico en el que surge la zona número 2 (tanto en Barcelona como en otras ciudades de España) (1 punto).

.....

.....

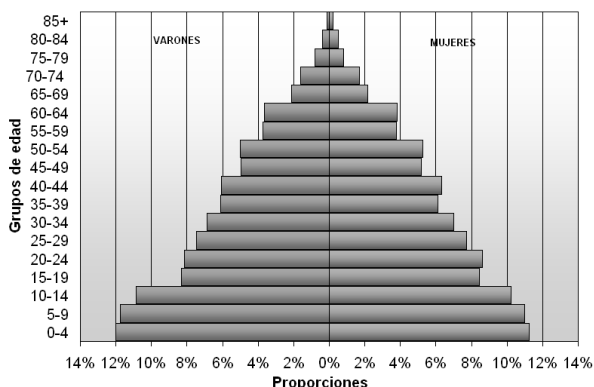
.....

.....

.....

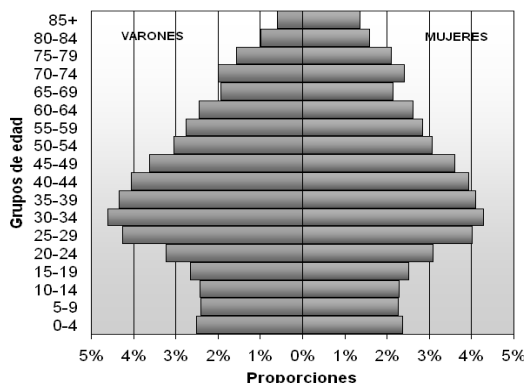
**4. Observa** detenidamente estas pirámides de población y **responde** a las preguntas: (2 puntos)

**Pirámide de población de España, año 1900**




Fuente: Instituto Nacional de Estadística. Censo de 1900

**Pirámide de población de España, año 2007**



Fuente: Instituto Nacional de Estadística. Censo a 1 de enero de 2007



**A.** ¿A qué modelo demográfico pertenece cada una de estas pirámides? **Justifica tu respuesta.** (1 punto)

Pirámide de España en 1900:.....

.....

Pirámide de España en 2007:.....

.....

**B.** ¿Qué nos indica la pirámide de 1900 con respecto a la esperanza de vida que había en aquella época? (0,5 puntos)

.....

.....

.....

**C.** Teniendo en cuenta lo que aparece representando en la pirámide de 2007, ¿qué problema demográfico y social afectará a España en los próximos años? (0,5 puntos)

.....

.....

.....

**5. Lee** con atención las siguientes definiciones y **escribe** en el espacio en blanco el concepto geográfico correspondiente (2 puntos):

**A.** Es el registro de las importaciones y exportaciones de un país durante un período: .....

**B.** Son grandes propiedades agrarias (de más de 100 hectáreas) que predominan en Andalucía, Extremadura, Aragón y Castilla la Mancha: .....

**C.** La diferencia que hay entre los nacidos y los fallecidos de un lugar concreto en un momento determinado:

.....

**D.** Es el peso que ejerce el aire sobre la superficie terrestre en un punto concreto: .....

**E.** Diferencia entre la temperatura media del mes más cálido y la temperatura media del mes más frío de un lugar determinado: .....

**F.** Trayecto que sigue un río desde su nacimiento a su desembocadura: .....

**G.** Nombre del tratado firmado en 1957 por la República Federal de Alemania, Francia, Italia, Holanda, Bélgica y Luxemburgo. Este tratado puso en marcha la Comunidad Económica Europea:

.....

**H.** Recursos que proceden de la naturaleza a partir de los cuales se obtienen productos elaborados o semielaborados. Se pueden clasificar en dos tipos: los de origen mineral y los de origen orgánico:

.....

